



ESCOLA BÁSICA DO 2º E 3º CICLOS, DE D. PEDRO II, MOITA

Ano letivo 2017/2018

4º Teste de Avaliação de História

Duração: 90 min.

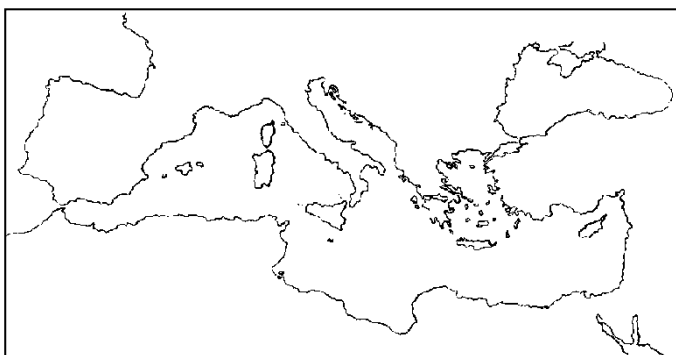
Data: 15/03/2018

Tipo de Prova/Competência(1): Escrita

Versão B

Nome: _____ Ano/Turma: _____ N.º: _____

Classificação: _____ Docente: _____ Enc. Ed. _____



Mapa 1

1. Observa com atenção o Mapa 1.

1.1. Assinala no mapa a localização da cidade de Roma.

2. Lê atentamente o documento 1.

Documento 1

Os Romanos têm apenas uma única razão para fazer a guerra a todas as nações, a todos os povos, a todos os reis – é um desejo insaciável de poder e riqueza. (...)

É pela audácia, pela mentira, é encadeando as guerras umas às outras que eles engrandeceram.

Salústio, Histórias

2.1. Justifica a formação do Império Romano, comprovando a tua resposta com uma frase do documento.

3. De entre os países que se seguem, assinala com um X aqueles que fizeram parte do Império Romano.

a) China _____

e) Colômbia _____

b) Tunísia _____

f) Canadá _____

c) Egito _____

g) Espanha _____

d) Turquia _____

h) Austrália _____

4. Observa com atenção a Imagem 1.

4.1. Explica por que razão os Romanos chamavam "mare nostrum" ao Mar Mediterrâneo.

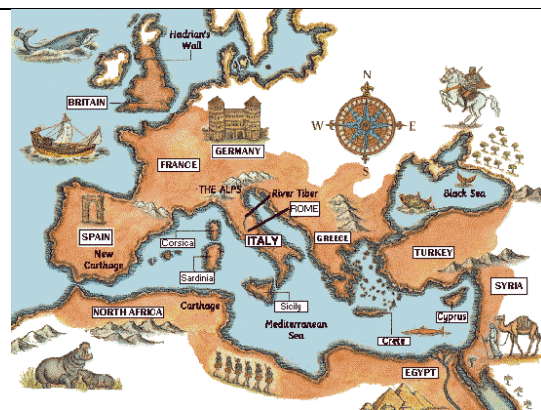


Imagem 1 - Império Romano

5. Observa com atenção a imagem 2 e lê o documento 2.




Imagem 2 - Imperador Otávio César Augusto

Documento 2

É verdade que ainda continuam a existir magistrados, mas todas as decisões verdadeiramente importantes são tomadas por quem detém efetivamente o poder: o imperador.

(...) os imperadores (...) procedem ao recrutamento de tropas, cobram impostos, declaram a guerra ou a paz, governam Roma, a Itália e as províncias e podem até condenar à morte senadores e cavaleiros.

Dion Cássio, *História Romana*

5.1. Os poderes do imperador eram:

- participava na cobrança de impostos _____
- dirigia a política externa _____
- comandava o cristianismo _____
- dirigia o culto religioso _____
- dirigia a nomeação de artesãos _____
- comandava o exército _____

5.2. Copia do documento uma frase que mostre que os imperadores romanos tinham um poder praticamente absoluto.

6. Atenta na imagem e no documento.




Imagem 3

Documento 3

A fim de que estes homens mal fixados e incultos, por isso inclinados a combater, se habituem a uma vida agradável e tranquila (...), Agrícola exortou-os a empreender a construção de templos, fóruns, casas (...). Os mais propensos há pouco a rejeitar a língua de Roma, ardiam agora de zelo para a falar eloquentemente.

Depois, progressivamente, chegaram a gostar dos nossos próprios vícios, do prazer dos pórticos, dos banhos e do requinte dos banquetes.

Tácito, *Vida de Agrícola* in *Descobrir a História 7*, Porto Editora

6.1. Caracteriza o fator de integração dos povos dominados representado na imagem.

6.2. Copia do documento uma frase que se refira à construção de obras públicas por todo o Império.

7. Lê com atenção o seguinte documento.

Documento 4

«Foi esta rede [viária romana], ligeiramente melhorada, que se manteve como base das comunicações durante um longo período (...).

Para além da língua, outro dos aspetos em que a ação do Romanos se revestiu de grande importância diz respeito (...) à separação administrativa por eles instituída (...).

Da longa presença dos romanos entre nós (...), restam-nos ainda numerosos vestígios. Para além das obras de engenharia (...), são inúmeras as obras de arquitetura de tipos variados, desde os balneários aos templos (...).

(...) encontram-se dispersos muitos outros tipos de testemunhos, desde os sarcófagos às peças de cerâmica, e de que as peças de numismática ⁽¹⁾ (...) são, sem dúvida, as mais numerosas.»

(1) Moedas

Alda Tarella, Como reconhecer a arte romana in Descobrir a História 7

7.1. Copia do documento uma frase que se refira à divulgação do latim na Península Ibérica.

7.2. Refere outras três alterações introduzidas pelos romanos na Península Ibérica.

8. Atenta na imagem e no documento.



Imagem 4

Documento 5

De todas as partes afluem produtos (...). Os dos rios e dos lagos e tudo o que produziu a indústria dos Gregos e dos Bárbaros. Se se quiser ver todas essas coisas, percorra-se toda a Terra ou permaneça-se em Roma (...) (1)

Hoje quase não há um chefe de família que não se tenha ido instalar dentro dos muros da cidade, abandonando a foice e a charrua, preferindo empregar as mãos a aplaudir no teatro e no circo (...) (2)

(1) Aélis Aristides, Discurso in Sinais da História 7, Ed. Asa

(2) Varrão, Da agricultura in Descobrir a História 7, Porto Editora

8.1. Explica por que razão a economia romana era monetária.

8.2. Copia do documento uma frase que comprove que a economia romana era comercial.

9. Refere, por ordem decrescente de importância, os grupos sociais romanos.

10. Atenta nas imagens abaixo.




Imagem 5



Imagem 6

10.1. Completa:

A arquitetura romana tinha um caráter grandioso, porque _____; tinha também um caráter _____. A construção representada na imagem 5 é _____ e servia para _____; a construção representada na imagem 6 é _____ e servia para _____.

11. Observa atentamente a imagem ao lado.

11.1. Refere dois temas da pintura romana.



Imagem 7

12. Atenta nas imagens que se seguem.



Imagem 8 - Marte

Imagem 9 - Minerva

Imagem 10 - Neptuno

12.1. Refere as funções dos deuses apresentados nas imagens acima.

13. Estabelece a ligação entre as colunas.

A - Culto imperial	Em honra dos deuses oficiais ____
B - Culto doméstico ou familiar	Em honra do imperador ____
C - Culto público	Em honra dos deuses protetores do lar e da família ____

14. Lê com atenção o documento 6.

Documento 6

"Ao ver a multidão, subiu a um monte e, depois de se ter sentado, aproximaram-se d'Ele os discípulos. Tomando então a palavra, começou a ensiná-los, dizendo:

- Bem-aventurados os que têm fome e sede de justiça, porque serão saciados;
- Bem-aventurados os puros de coração, porque verão a Deus (...);"

Evangelho de S. Mateus (adaptado) in *O fio da História 7*, Texto Editora

14.1. Identifica o valor do Cristianismo presente no documento.

15. Refere três razões que justifiquem a rápida propagação do cristianismo pelo Império Romano.

16. Explica a importância do Édito de Salónica para o Cristianismo.

BOA SORTE E BOM TRABALHO!!!

